

Карта-раскраска на английском языке: США и их соседи

(Пользуясь легендой в рамке, раскрасьте карту Северной Америки. На следующей странице подпишите по-английски обозначенные на карте страны и соедините линией указанные названия столиц со значками на карте, а затем правильно раскрасьте флаги.)

Name _____

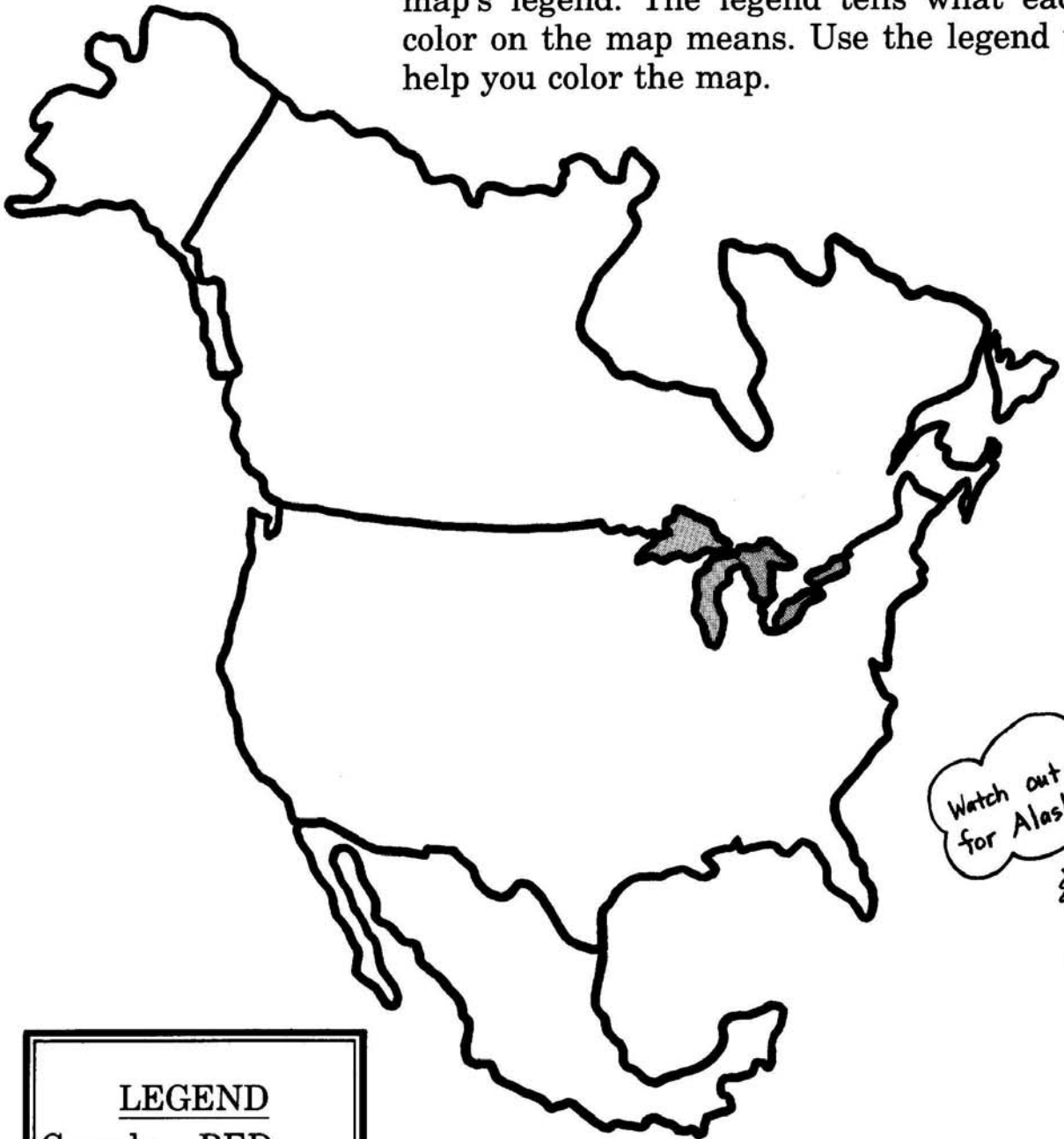
Date _____

Neighboring Countries

United States' closest neighbors are Canada and Mexico. Canada is north of the United States. Mexico is south of the United States.

Find Canada, the United States and Mexico on the map.

Find the box near the bottom of the map. This box is the map's legend. The legend tells what each color on the map means. Use the legend to help you color the map.



<p>LEGEND</p> <p>Canada – RED</p> <p>U.S. – YELLOW</p> <p>Mexico – ORANGE</p>
--


Name _____

Date _____


Three Countries

Look at the countries below. Draw a line from each capital city to its name. Then draw a line from each flag to the appropriate country. Do you know the names of these three countries?

Mexico City



Ottawa



Washington, D.C.

